



Черкасова А.А. Математика. 4 класс. Сборник заданий для подготовки к итоговым контрольным работам для общеобразовательных учебных заведений с русским языком обучения / А.А.Черкасова, Н.В.Панова.- Х.: Изд-во «Ранок», 2015.-48с.+32с. (додат.).

## МАТЕМАТИКА

### Работа 1

1. Реши задачу.

В две пекарни отправили 161 мешок муки. Одна пекарня получила 3 т 800 кг муки, а вторая 4 т 250 кг. Сколько мешков муки получила каждая пекарня?

2. Найди значение выражения.

$(7000 - a : 36) + b$ , если  $a = 16668$ ,  $b = 847903$ .

3. Расставь знаки арифметических действий среди чисел  $4800 \square 10 \square 100$  так, чтобы ответ был 480.

4. Сравни выражения.

$1/3 \text{ ч} + 25 \text{ мин} \square 90 \text{ мин}$        $2 \text{ ц} + 15 \text{ кг} \square 320 \text{ кг}$

5. Запиши наибольшее четырёхзначное число. Сначала увеличь его в 26 раз, а потом результат уменьши на 48965.

6. Длина садового участка составляет 45 м, а ширина на 23 м меньше. Найди площадь участка.



### Работа 2

Обозначь правильный ответ

1. Какое из чисел является наименьшим?

- а) 3524;
- б) 3245;
- в) 3452.

2. Какое число является решением уравнения  $x - 409 = 642 : 2$ ?

- а) 88;
- б) 730;
- в) 731.

3. Чему равна сторона квадрата, площадь которого равна площади прямоугольника со сторонами 16 см и 4 см?

- а) 8 см;
- б) 10 см;
- в) 16 см.

4. Поезд движется со скоростью 800 м/мин. Вырази его скорость в км/ч.

- а) 80;
- б) 480;
- в) 48.

5. Чему равно значение выражения  $(XX + V) \cdot II$ ?

- а) 15;
- б) 50;
- в) 150.

6. Равенство  $x \cdot 0 = x : 1$  верно, если:



- а)  $x = 0$ ;  
б)  $x$  не равно 0;  
в)  $x$  — любое число.

7. Если число,  $1/3$  которого равна 21, увеличить на 2 сотни, то получится:

- а) 207;  
б) 88;  
в) 263.

Дай краткий ответ

Дай ответ

8. В первом томе энциклопедии содержится 40 иллюстраций, что в 3 раза меньше количества иллюстраций во втором томе. Сколько иллюстраций содержится в двух томах энциклопедии?

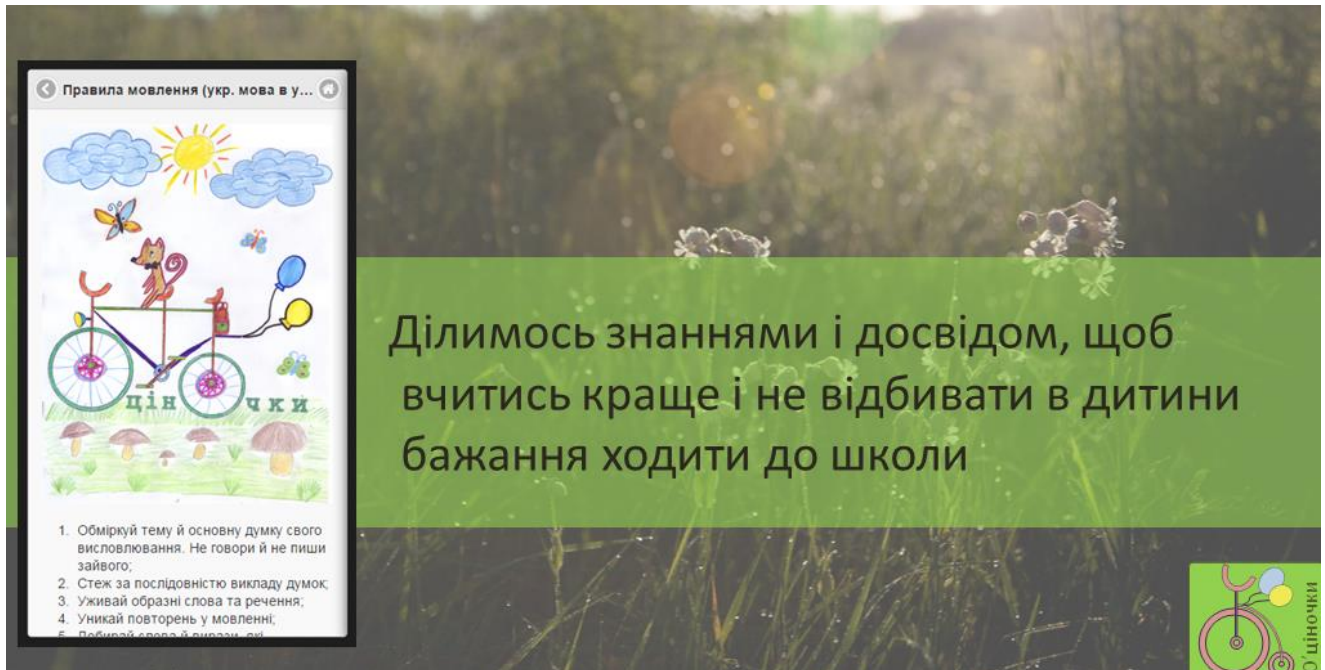
9. Во сколько раз нужно увеличить 7 мм, чтобы получить 70 м?

10. На сколько  $1/7$  числа 58 534 больше  $1/5$  числа 4285?


11. Составь выражение для решения задачи и реши её.

Автобус ехал 3 часа со скоростью 60 км/ч и 2 ч со скоростью 65 км/ч. Какое расстояние проехал автобус?

12. Построй прямоугольник, площадь которого  $16 \text{ см}^2$ , а периметр 20 см.




Правила мовлення (укр. мова в у...)



Ділимося знаннями і досвідом, щоб вчитись краще і не відбивати в дитини бажання ходити до школи

1. Обміркую тему й основну думку свого висловлювання. Не говори й не пиши зайвого;
2. Стеж за послідовністю викладу думок;
3. Уживай образні слова та речення;
4. Уникай повторень у мовленні;
5. Добирай слова й вирази.



О'ціночки